

Letter Based Reasoning

1. In the following question, select the related letters from the given alternatives.
निम्नलिखित प्रश्न में दिए गए विकल्पों में से संबंधित अक्षरों को चुनिए।



SH : IT :: LM : ?

[A] XB

[B] XU

[C] NM

[D] PV



2. In the following question, select the related letters from the given alternatives.
निम्नलिखित प्रश्न में दिए गए विकल्पों में से संबंधित अक्षरों को चुनिए।

PM : RO :: BC : ?

[A] XY

[C] ZA

[B] JK

☒ [D] DE

P
16
|+2
R
18

M
13
|+2
O
15

B
|
D
C
|
E




3. Select the option that is related to the fifth letter cluster in the same way as the second letter cluster is related to the first letter cluster and the fourth letter cluster is related to the third letter cluster.

उस विकल्प का चयन करें जो पांचवें अक्षर समूह से उसी प्रकार संबंधित है जैसे दूसरा अक्षर समूह पहले अक्षर समूह से संबंधित है और चौथा अक्षर समूह तीसरे अक्षर समूह से संबंधित है।

JSGXK : ADXIB :: LFCWE : CQTHV :: BDXOF : ?

- [A] SOOZW [B] SOXWZ
[C] WWOZD [D] ZOOWX



4. Select the option that is related to the fifth letter-cluster in the same way as the second letter-cluster is related to the first letter-cluster and the fourth letter-cluster is related to the third letter-cluster.

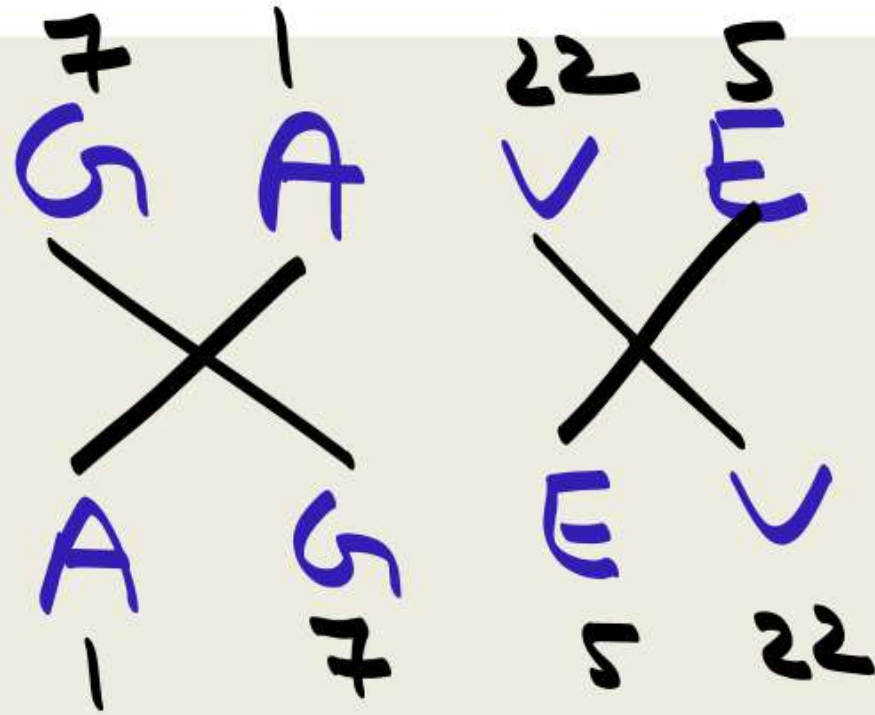
उस विकल्प का चयन करें जो पांचवें अक्षर-समूह से उसी प्रकार संबंधित है जैसे दूसरा अक्षर-समूह पहले अक्षर-समूह से संबंधित है और चौथा अक्षर-समूह तीसरे अक्षर-समूह से संबंधित है।

GAVE : AGEV :: KEPT : EKTP :: ACID : ?

☒ [A] CADI
[C] ACDI

XX

[B] CIAD
[D] CAID



5. Select the option that is related to the fifth letter-cluster in the same way as the second letter-cluster is related to the first letter-cluster and the fourth letter-cluster is related to the third letter-cluster.

उस विकल्प का चयन करें जो पांचवें अक्षर-समूह से उसी प्रकार संबंधित है जैसे दूसरा अक्षर-समूह पहले अक्षर-समूह से संबंधित है और चौथा अक्षर-समूह तीसरे अक्षर-समूह से संबंधित है।

DUNE: BGSXLQCH :: NEED: LQCHCHBG :: KING: ?

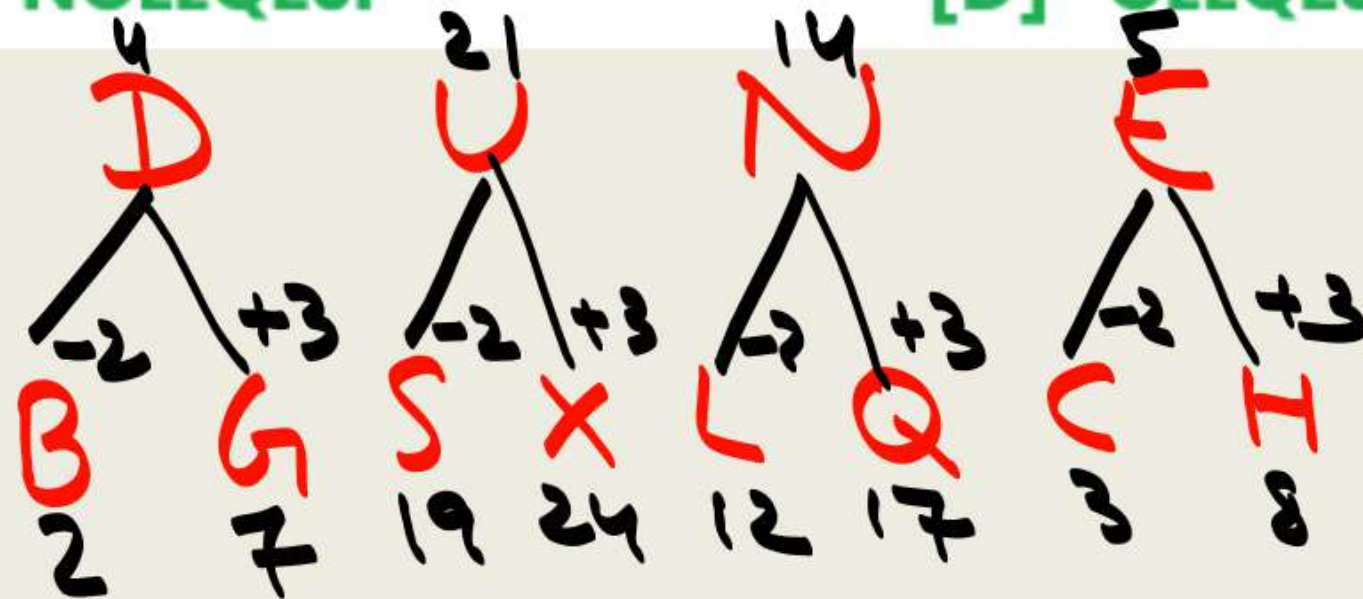
[A] LLQEJING

✓ [B] INGLLQEJ

[C] NGLLQEJI

[D] GLLQEJIN

ONE TO MANY



← I N G
I N G L L Q E J

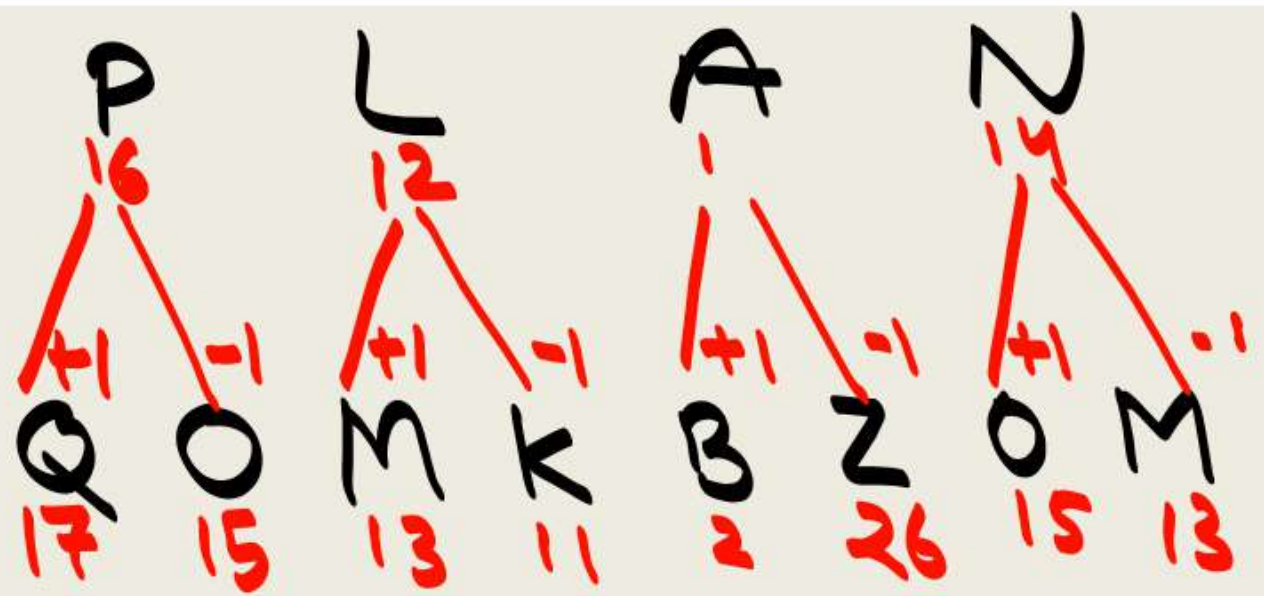


6. Select the option that is related to the fifth letter-cluster in the same way as the second letter-cluster is related to the first letter-cluster and the fourth letter-cluster is related to the third letter-cluster.

उस विकल्प का चयन करें जो पांचवें अक्षर-समूह से उसी प्रकार संबंधित है जैसे दूसरा अक्षर-समूह पहले अक्षर-समूह से संबंधित है और चौथा अक्षर-समूह तीसरे अक्षर-समूह से संबंधित है।

PLAN : QOMKBZOM :: SINK : TRJHOMLJ :: RUDE : ?

- [A] ECFDECFD
- [B] ECFDSQVT
- ☒ [C] SQVTECFD
- [D] SQVTSQVT



7. Which of the following letter-clusters should replace # and % so that the pattern and relationship followed between the letter-cluster pair on the left side of :: is the same as that on the right side of ::?

निम्नलिखित में से किस अक्षर-समूह को # और % को प्रतिस्थापित करना चाहिए ताकि :: के बाईं ओर अक्षर-समूह युग्म के बीच अपनाया गया पैटर्न और संबंध के दाईं ओर के समान हो?

: KNF :: QCV : %

[A] # = HPD, % = NFS

[C] # = HQC, % = NFS

[B] # = IPD, % = OET

[D] # = MLH, % = OET

E to F

- - -
K N F

Q C V
- - -

8. Which of the following letter-clusters should replace # and % so that the pattern and relationship followed between the letter-cluster pair on the left side of :: is the same as that on the right side of ::?

निम्नलिखित में से किस अक्षर-समूह को # और % को प्रतिस्थापित करना चाहिए ताकि :: के बाईं ओर अक्षर-समूह युग्म के बीच अपनाया गया पैटर्न और संबंध :: के दाईं ओर के समान हो?

: CLQ :: NDK : %

~~[A] # = DIS, % = PBN~~

~~[C] # = AJS, % = MAM~~

~~[B] # = EIT, % = QBN~~

[D] # = AOO, % = PAM



9. Which of the following letter-clusters should replace # and % so that the pattern and relationship followed between the letter-cluster pair on the left side of :: is the same as that on the right side of ::?

निम्नलिखित में से किस अक्षर-समूह को # और % को प्रतिस्थापित करना चाहिए ताकि :: के बाईं ओर अक्षर-समूह युग्म के बीच अपनाया गया पैटर्न और संबंध :: के दाईं ओर के समान हो?

#: DKR :: PCL: %

[A] # = BNP, % = NFM

[C] # = FHT, % = NFJ

[B] # = BNQ, % = NFM

[D] # = COQ, % = OGH



10. Select the option that is related to the fifth term the same way as the second term is related to the first term and the fourth term is related to the term.

उस विकल्प का चयन कीजिए, जिसका पांचवें पद से वही संबंध है, जो दूसरे पद का पहले पद से है और तीसरे पद का चौथे पद से है।

SUGAR : 11 :: PILOT : 12 :: HOTEL : ?

[A] 15

[C] 12

[B] 10

[D] 19

27 x 5
S U G A R
 19 21 7 1 18 → 11

Sum = 66

opp sum ⇒ $135 - 66$
69

Sum

 6



11. Out of the given letter clusters, three are similar in a certain manner. However, one letter cluster is NOT like the other three. Select the letter cluster which is different from the rest.

दिए गए अक्षर समूहों में से तीन एक निश्चित तरीके से समान हैं। हालाँकि, एक अक्षर क्लस्टर अन्य तीन की तरह नहीं है। उस अक्षर समूह का चयन करें जो बाकी से अलग है।

[A] MP +3
[B] FU 0 PP
[C] CX 0 PP
[D] AZ 0 PP

pattern

12. Three of the following letter-clusters are alike in some manner and hence form a group. Which letter-cluster does NOT belong to that group?

निम्नलिखित में से तीन अक्षर-समूह कुछ प्रकार से एक जैसे हैं और इसलिए एक समूह बनाते हैं। कौन सा अक्षर-समूह उस समूह से संबंधित नहीं है?

[A] EVS -3
[C] GTQ -3

[B] IRP -2
[D] VEB -3



13. Three of the following letter-clusters are alike in some manner and hence form a group. Which letter-cluster does not belong to that group?

निम्नलिखित में से तीन अक्षर-समूह कुछ प्रकार से एक जैसे हैं और इसलिए एक समूह बनाते हैं। कौन सा अक्षर-समूह उस समूह से संबंधित नहीं है?

[A] FYI $-7 + 10$

[C] KDN

$-7 + 10$

☒ [B] CGB $+4 -5$

[D] RKU

$-7 + 10$



14. What should come in place of the question mark (?) to complete the following letter cluster series?

निम्नलिखित अक्षर समूह श्रृंखला को पूरा करने के लिए प्रश्न चिह्न (?) के स्थान पर क्या आना चाहिए?

FHG, IKJ, LNM, ?

☒ [A] OQP

[C] PRQ

[B] OPQ

[D] QOP



15. Three of the following letter-clusters are alike in some manner and hence form a group. Which letter-cluster does not belong to that group?

**

निम्नलिखित में से तीन अक्षर-समूह कुछ प्रकार से एक जैसे हैं और इसलिए एक समूह बनाते हैं। कौन सा अक्षर-समूह उस समूह से संबंधित नहीं है?

[A] EQVK ss
[C] RDIX ss

[B] QFJV ss
[D] IMRO ss

Logic → ✓
 ✓
 |
 x → Vowel count



16. Three of the following letter-clusters are alike in some manner and hence form a group. Which letter-cluster does not belong to that group?

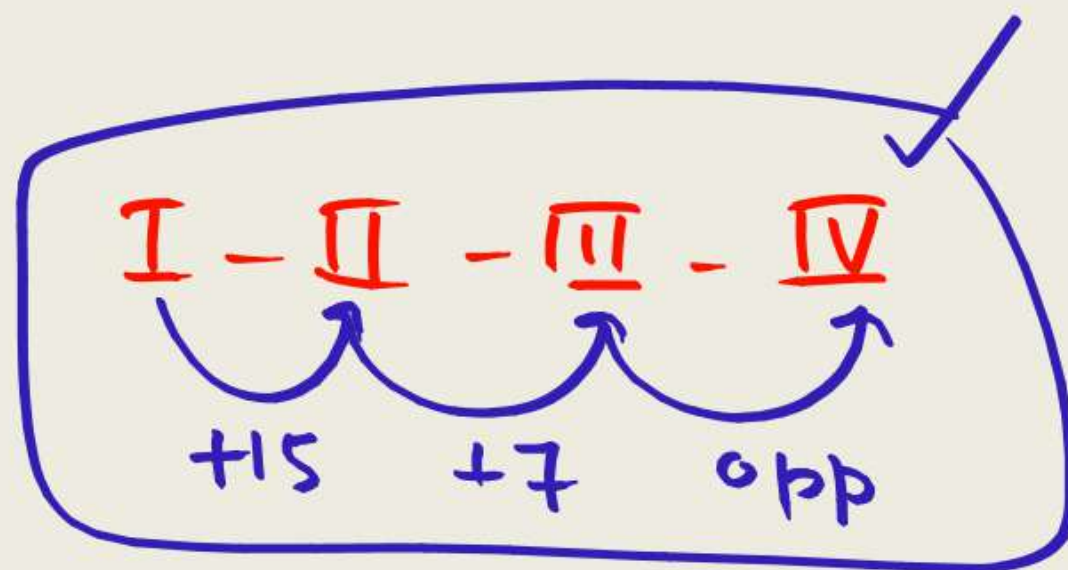
निम्नलिखित में से तीन अक्षर-समूह कुछ प्रकार से एक जैसे हैं और इसलिए एक समूह बनाते हैं। कौन सा अक्षर-समूह उस समूह से संबंधित नहीं है?

[A] ATRE

[C] CRYB
 $+15 +7$

[B] YNUF
 $+7$

[D] DSZA
 $+15 +7 +1$



17. Three of the following letter-clusters are alike in some manner and hence form a group. Which letter-cluster does not belong to that group?

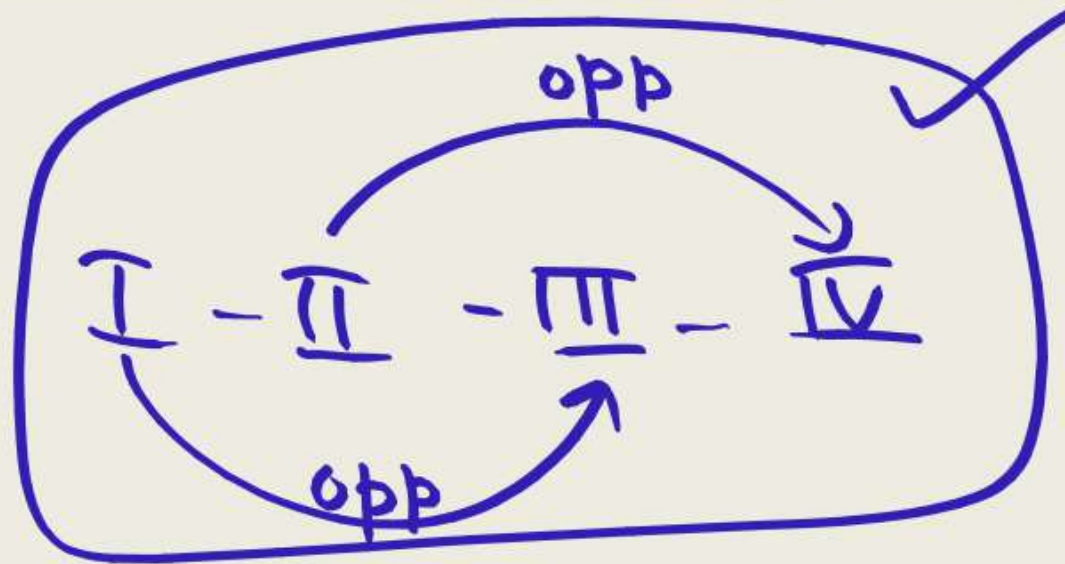
निम्नलिखित में से तीन अक्षर-समूह कुछ प्रकार से एक जैसे हैं और इसलिए एक समूह बनाते हैं। कौन सा अक्षर-समूह उस समूह से संबंधित नहीं है?

[A] XZCA $+2 +3 -2$

[C] UWFD $+2 +9 -2$

✓ [B] JFOQ $-4 +9 +2$

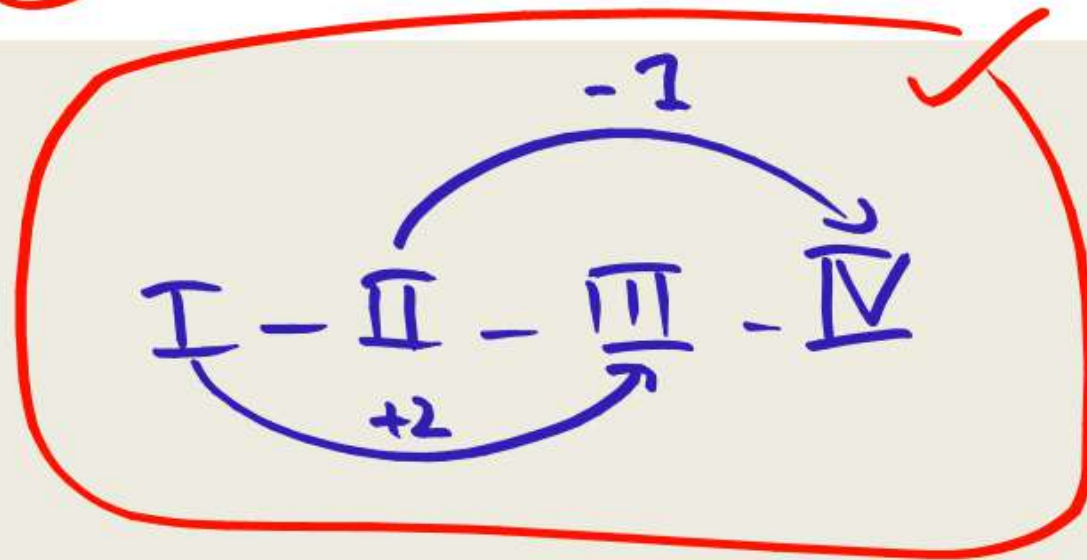
[D] PRKI $+2 -7 -2$



18. Three of the following letter-clusters are alike in some manner and hence form a group. Which letter-cluster does not belong to that group?

निम्नलिखित में से तीन अक्षर-समूह कुछ प्रकार से एक जैसे हैं और इसलिए एक समूह बनाते हैं। कौन सा अक्षर-समूह उस समूह से संबंधित नहीं है?

- [A] EQGP $+2$ -1 45
[B] MKOJ $+2$ -1 45
[C] XFW E $+1$ 58
[D] URWQ $+2$ -1 45



Sum X

19. Three of the following letter-clusters are alike in some manner and hence form a group. Which letter-cluster does not belong to that group?

निम्नलिखित में से तीन अक्षर-समूह कुछ प्रकार से एक जैसे हैं और इसलिए एक समूह बनाते हैं। कौन सा अक्षर-समूह उस समूह से संबंधित नहीं है?

[A] BXC⁺¹Y⁺¹
[C] MEK⁻²F⁺¹

[B] ZL⁻²X⁺¹M⁺¹
[D] WPU⁻²Q⁺¹



20. Three of the following four letter-clusters are alike in a certain way and one is different. Pick the odd one out.

निम्नलिखित चार अक्षर-समूहों में से तीन एक निश्चित तरीके से समान हैं और एक भिन्न है। विषम को चुनें।

[A] YCI +4 +6

[C] EIO +4 +6

✓ [B] PTY +4 +5

[D] DHN +4 +6



21. Which of the following letter cluster will replace the blanks in the given series?

निम्नलिखित में से कौन सा अक्षर समूह दी गई श्रृंखला में रिक्त स्थान को प्रतिस्थापित करेगा?

Ca_a_pcaa_a_pcaa_a_pcaa_p_aap

[A] aacp

[B] aapp

✓ [C] appc

[D] appp

3 Step Method

1 → Count 20

✓ 2 → factor

3 → fill in the blank

Repetition ✓



22. Select the option that represents the letters that, when placed from left to right in the blanks below will complete the letter series.

उस विकल्प का चयन करें जो उन अक्षरों को दर्शाता है, जिन्हें नीचे रिक्त स्थान में बाएं से दाएं रखने पर अक्षर श्रृंखला पूरी हो जाएगी।

AB² ³CCC⁴ DDDE⁵ ⁶FGGGH⁷ HH

✓ [A] BDFH

[C] BDFG

[B] CDFH

[D] BCFH



23. Select the option that represents the letters that, when placed from left to right in the following blanks, will complete the letter-series.

उस विकल्प का चयन करें जो उन अक्षरों को दर्शाता है, जिन्हें निम्नलिखित रिक्त स्थान में बाएं से दाएं रखने पर अक्षर-श्रृंखला पूरी हो जाएगी।

B V J R W B V K R W B V L R W B V M R W

[A] BVKRWMR [B] BWKRWMR
[C] AWKRXNR [D] AVKRWMR

Repetition ✓



3 step method

20 → 4 × 5
↑ ↑



24. Select the option that represents the letters that, when sequentially placed from left to right in the blanks below, will complete the letter series.

उस विकल्प का चयन करें जो उन अक्षरों का प्रतिनिधित्व करता है, जिन्हें नीचे दिए गए रिक्त स्थान में बाएं से दाएं क्रमिक रूप से रखने पर अक्षर श्रृंखला पूरी हो जाएगी।

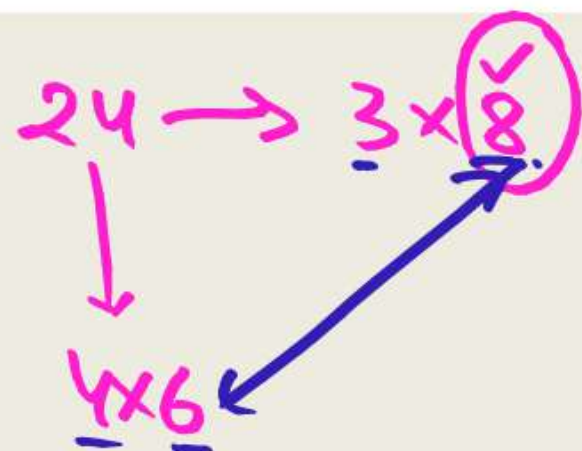
aa ju hdin aa juhdin aa juhdin

[A] juaajaan

✓ [B] juaaaaain

[C] jujnaaaa

[D] jujaaaaa



25. Select the option that represents the letters that, when sequentially placed from left to right in the blanks below, will complete the letter series.

उस विकल्प का चयन करें जो उन अक्षरों का प्रतिनिधित्व करता है, जिन्हें नीचे दिए गए रिक्त स्थान में बाएं से दाएं क्रमिक रूप से रखने पर अक्षर श्रृंखला पूरी हो जाएगी।

m_e_r_o_t_s_c_u | m_e_r_o_t_s_c_u | m_e_r_o_t_s_c_u

[A] emtsotcc

[B] esotmtco

✓ [C] eosutmtc

[D] eostumtc

$$24 - 3 \times (8) \checkmark$$
$$|$$
$$4 \times 6$$



26. Select the option that represents the letters that when placed from left to right in the blanks below will complete the letter series.

उस विकल्प का चयन करें जो उन अक्षरों को दर्शाता है जिन्हें नीचे रिक्त स्थान में बाएं से दाएं रखने पर अक्षर श्रृंखला पूरी हो जाएगी।

D _ C _ F E _ D _ C C _ E F _ E _ D _ C _ E F _ D _ C _ E _ F _ E

[A] ECDEFDCECF

[B] CEDEFCDCECE

✓ [C] CEDEFDCECF

[D] CEDFEDCECE

$$24 - 3 \times 8$$

↓

$$4 \times 6$$



27. Select the combination of letters that when sequentially placed in the blanks of the given series, will complete the series.

अक्षरों के उस संयोजन का चयन करें जिन्हें दी गई श्रृंखला के रिक्त स्थानों में क्रमिक रूप से रखने पर श्रृंखला पूरी हो जाएगी।

VW WV

[A] WWWVW

[B] VWVWV

[C] WVWWV

☒ [D] VWVVV

2 Letter \rightarrow V, W

12
3x4



28. Select the option that represents the letters that, when sequentially placed from left to right in the blanks, will complete the letter series.

उस विकल्प का चयन करें जो उन अक्षरों का प्रतिनिधित्व करता है, जिन्हें रिक्त स्थान में बाएं से दाएं क्रमिक रूप से रखने पर अक्षर श्रृंखला पूरी हो जाएगी।

w_e_l_l_g_k_l_w_e_l_l_n_g_k_l_w_e_l_l_n_g_k

[A] enklwgln

[B] enlkgwkn

[C] enklgwkn

[D] enklgwln

21 — 3 × 7



29. Select the option that represents the letters that, when sequentially placed from left to right in the blanks, will complete the letter series.

उस विकल्प का चयन करें जो उन अक्षरों का प्रतिनिधित्व करता है, जिन्हें रिक्त स्थान में बाएं से दाएं क्रमिक रूप से रखने पर अक्षर श्रृंखला पूरी हो जाएगी।

s s t u a r | s s t u a a r | s s t u a r

[A] starussta

[B] stasusrta

✓ [C] stasursta

[D] stausrsta

21 - 3x(7)



अक्षरों के उस संयोजन का चयन करें जिन्हें दी गई श्रृंखला के रिक्त स्थानों में क्रमिक रूप से रखने पर श्रृंखला पूरी हो जाएगी।

[A] RSSRR

[C] RRRSR

[B] SRRSR

[D] RSRRS

$$2 \rightarrow R, S$$

11 → 12
3 × 4



31. Find the next term in the given series.

दी गई श्रृंखला में अगला पद ज्ञात कीजिए।

W29, P34, I39, B44, ? U49

~~[A] V49~~

~~[C] V48~~

~~[B] U49~~

~~[D] W48~~

Alphanumeric✓



32. Find the next term in given series.

दी गई श्रृंखला में अगला पद ज्ञात कीजिए।

~~AN~~ITINSTITUTIONALISM, INSTITUTIONA, ⁺¹~~T~~INSTITUTIONAL ⁺¹~~T~~ITUTI, ⁺²~~NS~~ITUTION, ⁺²~~NS~~ITUTION,?

[A] TUTI

[C] TIONA

✓ [B] TU

[D] TITUTI

+U

Alternate ✓



33. Which of the following numbers will replace the question mark (?) in the given series?

निम्नलिखित में से कौन सी संख्या दी गई श्रृंखला में प्रश्न चिह्न (?) को प्रतिस्थापित करेगी?

AGM, CEO, ECQ, GAS, ?

☒ [A] IYU

☐ [C] YUI

☐ [B] JZS

☐ [D] IUY



34. Which letter-cluster will replace the question mark (?) to complete the given series?

दी गई श्रृंखला को पूरा करने के लिए कौन सा अक्षर-समूह प्रश्न चिह्न (?) का स्थान लेगा?

PORK, NQPM, LSNO, JULQ, ? *WJ* -

☒ [A] HWJS

☐ [B] HXJS

☐ [C] HWKR

☐ [D] HXKS



36. A series is given with one term missing. Select the correct alternative from the given ones that will complete the series.

एक श्रृंखला दी गई है जिसमें एक पद लुप्त है। दिए गए विकल्पों में से वह सही विकल्प चुनें जो श्रृंखला को पूरा करेगा।

ANTQ, YMRP, ^{W-PO}?, UKNN, SJLM

[A] WIPO

[C] ~~WIQO~~

[B] ~~WIPQ~~

[D] ~~XIPO~~



37. Which of the following terms will replace the question mark (?) in the given series?

निम्नलिखित में से कौन सा पद दी गई श्रृंखला में प्रश्न चिह्न () का स्थान लेगा?

GATE, JEQI, MINO, P, SUHA

☒ [A] POKU

☐ [C] EFAY

☐ [B] DAVB

☐ [D] IRXY



38. Four of the following five are alike in a certain way and so form a group. Which is the one that does not belong to that group?

निम्नलिखित पांच में से चार एक निश्चित तरीके से समान हैं और इसलिए एक समूह बनाते हैं। वह कौन सा है जो उस समूह से संबंधित नहीं है? classification

⁺³ AD, ⁺³ MP, ⁺² SU, ⁺³ VY, ⁺³ LO

[A] LO

[B] VY

✓ [C] SU

[D] AD



39. Which of the following numbers will replace the question mark (?) in the given series?

निम्नलिखित में से कौन सी संख्या दी गई श्रृंखला में प्रश्न चिह्न (?) को प्रतिस्थापित करेगी?

LB, NZ, PX, RV, ? TT

[A] UT

[C] ST

[B] TS

[D] TT



40. A series is given with one term missing. Select the correct alternative from the given ones that will complete the series.

एक श्रृंखला दी गई है जिसमें एक पद लुप्त है। दिए गए विकल्पों में से वह सही विकल्प चुनें जो श्रृंखला को पूरा करेगा।

TP, VM, XJ, ZG, ? **B D**

☒ [A] BD

☐ [C] BE

☐ [B] CE

☐ [D] CD



Revise → Master Stroke ✓✓
रखोना ✓